

國立關西高級中學 107 學年度第二學期題目試卷

試 別	期末考	科 目	公民與社會	命 題 教 師	蔡文華
適用班級	高二甲 高二乙	卷 別	<input type="checkbox"/> 單面 <input checked="" type="checkbox"/> 雙面、共 5 頁	答案卡	<input checked="" type="checkbox"/> 是 <input type="checkbox"/> 小卡
班 級		座 號	姓 名	總 分	

◎怡君是很有正義感的女生，她希望畢業後能在法院裡工作，以下是對法院和相關司法人員職務的認識，請你和她一起找出正確的選項。

- (1) 法庭上的司法人員各司其職，以維持法庭上之公平正義，有關法庭人員職權的相關敘述，何者正確？ (A)法官負責審判、執行 (B)通譯負責法庭上專業法規的解說 (C)書記官掌管法庭紀錄及訴訟輔導等事務 (D)公設辯護人協助檢察官偵查犯罪
- (2) 關於法庭上訴訟程序的進行，下列敘述何者正確？ (A)檢察官應負責替被告辯護 (B)原告應就有利於己的事實舉證 (C)法官應針對訴訟實質層面下裁定 (D)僅一審法院需根據事實進行審判

◎有建設公司在建築廣告中以高級公共設施為噱頭吸引民眾注意；但公平會調查之後發現，被標為公共設施的位置其實其核准用途應該是機電設備空間或是自行車位空間，因此認為構成不實廣告而誤導消費者，對建商處以高額罰鍰。

- (3) 如果你是該建商，你應該先採取下列何項救濟手段，請求撤銷該罰單？ (A)向公平會提出訴願 (B)向行政院提出訴願 (C)向臺北地方法院起訴，以公平會為被告 (D)向臺北高等行政法院起訴，以行政院為被告
- (4) 行政救濟中，關於訴願之程序，下列敘述何者正確？ (A)訴願之客體以中央或地方機關「違法」之行政處分為限，不及於「不當」之行政處分 (B)「冤有頭，債有主」，訴願之提起，應向原處分機關為之 (C)訴願之提起應於收到行政處分書的次日起 30 日內為之 (D)不服訴願決定之訴願人，得向高等法院提起行政訴訟
- (5) 若建商提起行政訴訟，則關於行政訴訟之程序，下列敘述哪些正確？(甲)行政訴訟之客體以「違法」之行政處分為限(乙)行政訴訟須徵收裁判費(丙)原處分或決定之執行，除法律另有規定外，不因提起行政訴訟而停止，亦即起訴不中斷執行(丁)行政訴訟並無再審之設計。 (A)甲乙丙 (B)乙丙丁 (C)甲乙丁 (D)甲丙丁

◎在君主統治時期，國家立於統治地位，人民只能被動的接受國家的行政行為，國家侵害人民的權利，也被視為是合法、正當的作為。民主法治國時代，人民守法、國家也必須依法統治，人民與國家立基於平等地位，當人民認為國家或地方自治團體的行政作為有違法或不適當，並因而導致人民的權益受到損害時，人民可以採取救濟方式，尋求權利回復、補償，甚而賠償，這就是「行政救濟」的涵義。

- (6) 請問，下列政府哪些行為是人民可以提出「行政救濟」？(甲)周傑倫未參加期末考試，被就讀高中以無故不參加學校重要活動退學處分(乙)蔡小玲未在規定時間繳交牌照稅，被戶籍所在地的監理單位吊銷駕駛執照(丙)楊劍俠因為宗教信仰拒絕服兵役，遭國防部以妨害兵役治罪條例法辦入獄(丁)熊茂生開設餐廳，漏開統一發票，遭國稅局以影響政府稅收施以停業處分。 (A)甲乙丙 (B)乙丙丁 (C)甲乙丁 (D)甲丙丁
- (7) 承上題。在上述屬於「行政救濟」選項中，某些法律規定，要求當事人先進行「訴願」的先行程序。這些程序包括什麼？(甲)申訴(乙)抗告(丙)復查(丁)聲明異議。 (A)甲乙丙 (B)乙丙丁 (C)甲乙丁 (D)甲丙丁
- (8) 承上題。下列哪些機關的行政行為不適用「行政救濟」？ (A)翟區民不服臺中市議會制定「臺中市民間設置臨時路外停車場獎助辦法」 (B)吳新華不服臺中地方法院審理他與朋友之間債務判決他敗訴 (C)陳文化不服監察院通過彈劾他辦理土地徵收補償費有失職之處 (D)劉金揚不服考試院不發給他國家考試及格證書
- (9) 阿帕契貴婦案，桃園地檢署雖然做出不起訴處分，但因依職權須送高檢署再議，高檢署認為桃園地檢署適用法條錯誤，撤銷不起訴處分，改依內亂外患罪重啟偵辦。請問下列何者正確？ (A)不起訴處分被撤銷後法院就可以開始審判 (B)內亂外患罪的第一審法院是地方法院 (C)本案人民也可以向法院提起自訴 (D)內亂外患罪只有一次上訴的機會
- (10) 小琪接到詐騙電話，對方聲稱自己是檢察官，正在查一起金融犯罪案件，要求小琪告訴他帳戶資料以便核對。小琪故意刁難，要求對方說明自己所處的機關、職權，請問詐騙集團的哪一句話露出了馬腳？ (A)他的職位隸屬於司法院管轄 (B)他負責偵查以及審判後的執行 (C)民事訴訟沒有檢察官的設置 (D)他必須要舉證證明被告有罪

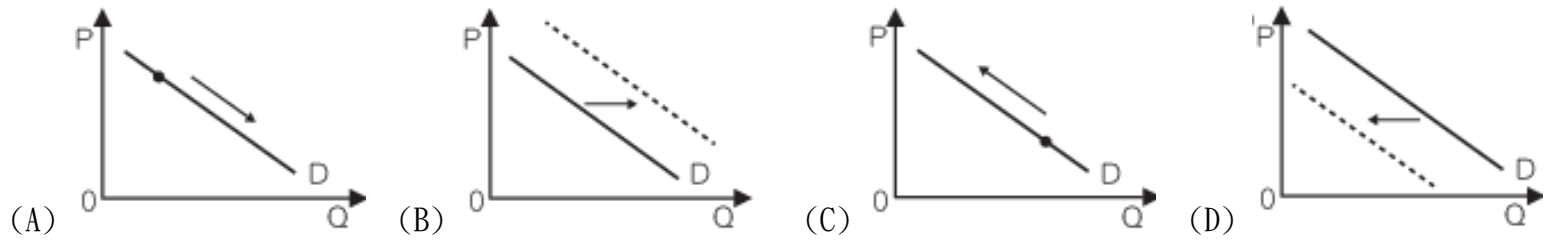
★某廠商觀察到馬來西亞人愛喝咖啡，又重視養生觀念的特性後，將馬來西亞人參萃取物「東革阿里」(Tongkat Ali)加入即溶咖啡中販售，此一養生咖啡切中當地新興中產階級的喜好，帶動熱銷浪潮。

- (11) 隨著養生咖啡熱銷，對於該牌咖啡而言，東革阿里人參萃取物與即溶咖啡粉在生產上的關係為何？ (A)互補品 (B)替代品 (C)奢侈品 (D)必需品
- (12) 假若該養生咖啡熱銷是當地新興中產階級愈來愈多的結果，請問對於當地的新興中產階級而言，養生咖啡可歸類為何種財貨？ (A)正常財 (B)劣等財 (C)炫耀財 (D)季芬財

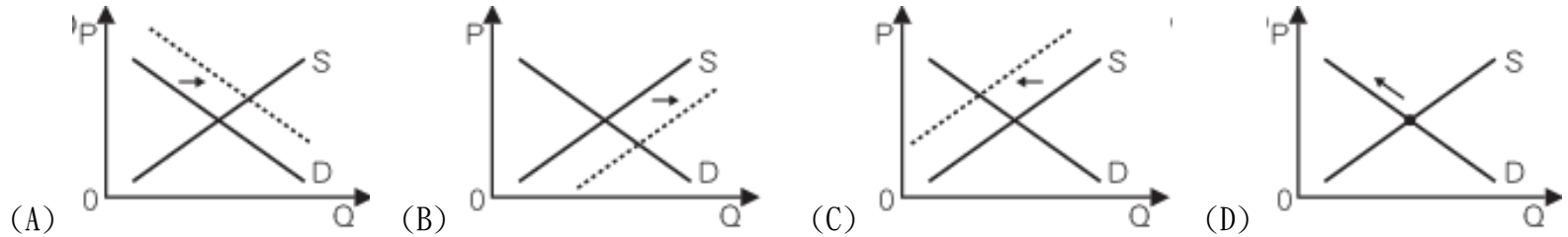
(13) 該款養生咖啡熱銷可能是受到需求市場何種因素的影響？ (A)受到產品特色等因素影響消費者偏好 (B)消費者預期未來該產品的價格會上揚 (C)茶等替代品的價格上漲導致需求增加 (D)隨著消費者所得提高導致需求量增加

★豬肉價格持續大漲，造成其替代品雞肉的價格跟著上揚，每臺斤達 30.3 元。隨著豬肉價格高漲引發民怨，多名立委要求政府提出對策使豬肉價格回穩。

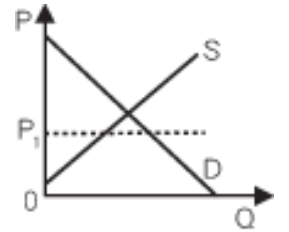
(14) 請問豬肉價格大漲，對豬肉市場的需求面會造成何種影響？



(15) 請問下列哪張圖可用來表示豬肉價格大漲對雞肉市場造成的影響？



(16) 假若右圖代表當時的豬肉市場供需，當政府在壓力之下，強制要求豬肉供應商必須將豬肉價格降至  $P_1$  時，相較於政府沒有干預的情形，豬肉市場會出現下列何種變動？ (A)豬肉的需求增加 (B)生產者剩餘減少 (C)消費者剩餘減少 (D)社會淨效益增加



★近年來，直播行業愈來愈興盛，許多人放棄原本的工作，加入成為網紅的行列。與傳統明星藝人相比，青少年更加喜愛直播平臺上的紅人，他們也比父母輩更敢花錢，透過贈送虛擬禮物給自己喜歡的直播者當作贊助，藉此鼓勵對方推出更有趣的節目，使得直播行業一飛衝天。

(17) 請問青少年更加喜愛直播紅人的特性，對直播市場的需求曲線的影響為何？ (A)需求點沿著需求曲線往左上移動 (B)需求點沿著需求曲線往右下方移動 (C)需求曲線往右移動 (D)需求曲線往左移動

(18) 請問上述提到「青少年更加喜愛直播平臺上的紅人」屬於何種影響需求的因素？ (A)相關產品的價格 (B)消費者偏好 (C)對未來價格的預期 (D)消費者所得增加

★假設梨山高接梨的市場需求函數為  $Q_d = 4,000 - 20P$ ，供給函數為  $Q_s = 20P - 400$ ，其中  $Q_d$  代表需求量， $Q_s$  代表供給量，單位為臺斤， $P$  則代表價格。

(19) 高接梨的均衡價格為多少元？ (A)90 元 (B)100 元 (C)105 元 (D)110 元

(20) 如果政府訂定高接梨的價格下限為每臺斤 150 元，則消費者剩餘會如何變化？ (A)增加 26,000 元 (B)減少 26,000 元 (C)增加 56,000 元 (D)減少 56,000 元

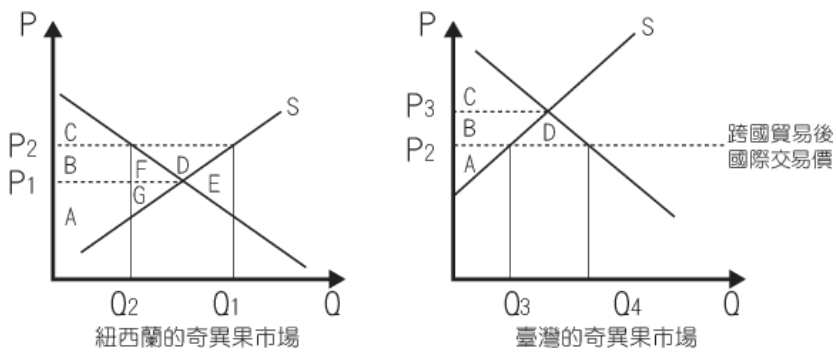
(21) 承上題，高接梨的市場會產生多少臺斤的過剩或短缺？ (A)過剩 1,600 臺斤 (B)短缺 1,600 臺斤 (C)過剩 2,400 臺斤 (D)短缺 2,400 臺斤

★臺商自行車產業發展 20 多年來，已讓臺灣成為高價車的研發中心，較低階的組裝與零件廠則分別轉往中國和越南，三地分工態勢已然成型。政府表示，如果臺灣能進入《跨太平洋夥伴全面進展協定》(CPTPP)，打破關稅壁壘，就能提升國內產業的競爭力。

(22) 試問，自行車業已進入跨國分工的產製年代，根據比較利益法則進行有利的分工。從上文敘述可知下列哪個推論最為正確？ (A)臺灣生產零件較具比較利益 (B)中國在低階組裝的機會成本最小 (C)越南對零件的生產具有絕對利益 (D)臺灣生產自行車較具比較利益

(23) CPTPP 是亞太地區很大的經濟整合體，納入超出傳統自由貿易協定之新興議題，如環保及勞工權益等，且未來將與時俱進，不斷納入新的經貿議題。下列哪項貿易行為「不是」該組織所鼓吹的？ (A)關稅減讓原則 (B)最惠國待遇原則 (C)國民待遇原則 (D)出口補貼

★奇異果正當季，Zespri 紐西蘭奇異果在臺灣推出新品種。Zespri 紐西蘭奇異果行銷經理表示，2015 年臺灣人共消費了 3 億顆紐西蘭奇異果，2016 年應會增加到 3.3~3.6 億顆紐西蘭奇異果，年增 1~2 成。假設下圖是兩國貿易前後的供需圖，請根據上文回答以下問題。



- (24) 關於兩國的奇異果貿易，假設兩國皆有能栽種奇異果，且在不考慮兩國推動貿易的交通成本與關稅等問題，下列那個推論正確？ (A) 兩國貿易前，臺灣國內奇異果價格較紐西蘭國內價格低 (B) 兩國貿易後，臺灣國內奇異果價格較紐西蘭國內價格高 (C) 兩國貿易後，紐西蘭國內的奇異果價格將因貿易而調高 (D) 兩國貿易後，紐西蘭奇異果價格將高於臺灣奇異果價格
- (25) 關於臺灣與紐西蘭的貿易，下列敘述何者正確？ (A) 臺灣生產奇異果的機會成本等於紐西蘭 (B) 紐西蘭生產奇異果的機會成本高於臺灣 (C) 臺灣生產奇異果較紐西蘭具有比較利益 (D) 紐西蘭生產奇異果較臺灣具有比較利益
- (26) 臺紐在奇異果的貿易下，下列關於兩國的利益分析，何者正確？ (A) 貿易後，臺灣在奇異果的消費者剩餘將減少 (B) 貿易後，紐西蘭在奇異果的生產者剩餘將增加 (C) 貿易後，臺灣在奇異果的生產者剩餘將增加 (D) 貿易後，紐西蘭在奇異果的生產者與消費者剩餘都增加
- (27) 試問，從圖形來看，貿易後兩國的經濟福祉會呈現何種樣貌？ (A) 紐西蘭的經濟福祉將比貿易前增加 D (B) 臺灣的經濟福祉將比貿易前減少 D (C) 紐西蘭的經濟福祉為 ABCFG (D) 臺灣的經濟福祉為 ABC

★由於歐洲景氣不佳，因此從 2012 年 11 月開始，我國對歐出口持續下降，2013 年 4 月對全球的出口衰退，主因就在於對歐洲的出口大減近二成，其中臺灣手機輸歐的減幅更高達一半。

- (28) 歐盟與臺灣皆為 WTO 會員，若某歐盟境內的手機大廠發現，我國官員常公開鼓勵國人使用國產手機，以增加臺灣就業機會，則可採取何種行動因應？ (A) 向 WTO 申訴臺灣違規 (B) 要求歐盟提供出口補貼 (C) 對臺灣手機課徵反傾銷稅 (D) 在臺灣設立工廠生產手機
- (29) 歐洲市場對我國深具重要性，假如歐洲為了因應全球暖化，開始對手機的生產與進口課徵「碳稅」，請問將造成何種結果？ (A) 我國手機價格下跌 (B) 歐洲手機出口增加 (C) 歐洲人買更多手機 (D) 我國手機出口供給曲線左移

★平均每人 GDP 為全世界第二名的列支敦斯登，全國經濟產值的四成為製造業所貢獻，該國在全球市占率第一的陶瓷假牙公司「義獲嘉韋瓦登特」，即將技術密集的產品留在國內生產，其他較不需要技術的部分才移往其他國家生產。

- (30) 關於列支敦斯登的 GDP，若以我國行政院主計總處的相關定義與概念衡量，下列敘述何者正確？ (A) 將最終產品與中間產品的價值共同計入 (B) 透過平均每人 GDP 可看出所得分配情形 (C) 可以直接看出休閒與工作的環境條件品質 (D) 並不計入市場交易外的商品或勞務產出
- (31) 人們過去普遍使用國民所得來評估一國經濟發展情形，近年則提倡納入國家競爭力概念，關於國家競爭力評比敘述，何者正確？ (A) 平均每人 GDP 突出，國家競爭力未必名列前茅 (B) WEF 與 IMD 的國家競爭力評比，皆客觀而穩定 (C) 醫療衛生設施是否充足，會計入企業效能評比中 (D) 評比著重長期經濟表現，兼顧社會、環境考量
- (32) 為了增加平均每人產量，必須加強相關的經濟發展要素，若以文中義獲嘉韋瓦登特公司的角度來看，何者敘述正確？ (A) 公司所處國家製造業發達，代表該國擁有豐富自然資本 (B) 公司將最精密技術留在國內是該國社會資本豐厚的結果 (C) 公司透過開發新產品以及服務創新，是企業才能的展現 (D) 公司將部分產品移往國外生產，著眼對方豐厚人力資本

★根據觀光局統計，2016 年韓客來臺觀光人數爆增 3 成 6；熱門必去景點無非就是九份、平溪，但這幾個景點位在郊區，捷運難到達，臺鐵又沒韓文標示，包車比較方便，不少韓客選擇包車旅遊。

- (33) 小黃司機們蓄勢待發，做好搶客準備，參加車隊內訓韓文課程，強化語言能力。請問這種作法增強的生產要素或經濟發展要素，與下列哪一種情況相同？ (A) 果農學習架設網站平臺賣水果 (B) 陸客認為臺灣最美的風景是人情 (C) 臉書多雇用三千人搜查網站上不良影片 (D) 觀光局請日韓當紅藝人拍攝來臺觀光廣告

(34) 另有一家車隊則是規畫聘請外語人才，擔任客服協助翻譯，提供即時翻譯與不同品質的服務。請問這種作法最可能是下列哪一種生產要素或經濟發展要素的展現？ (A)人力資本 (B)社會資本 (C)政府效能 (D)企業才能

(35) 南韓觀光客來臺觀光遊覽對我國國民所得的影響，下列敘述何者正確？ (A)能刺激國民所得內民間投資這部分 (B)來臺花費可以提升當年度的出口值 (C)賺觀光財的小黃司機因而對GNI有所貢獻 (D)南韓觀光客非本國居民，故來臺花費無法計入我國GNI

★美國流行天后女神卡卡造訪臺灣，在臺中戶外圓滿劇場舉行新專輯發表會。歌迷反應踴躍，場外也架起大螢幕進行轉播，讓無法入場的人也能感受卡卡的魅力。

(36) 關於女神卡卡訪臺時的各種經濟活動，何者會計入臺灣的GNP？ (A)卡卡在專輯發表會上的收入 (B)熱情歌迷自製面具送給卡卡 (C)卡卡購買臺灣製精品的開支 (D)攤販在劇場附近販售螢光棒

(37) 請問此次卡卡訪臺的各種事件，會對臺灣的綠色GDP產生什麼直接影響？ (A)卡卡大舉採購會減少臺灣的產出，使綠色GDP減少 (B)泰雅族小朋友招待卡卡看免費舞蹈，綠色GDP增加 (C)歌迷在表演活動期間製造大量垃圾，會減少綠色GDP (D)表演場地外塞車，民眾消費更多汽油，綠色GDP增加

★瑞典首都斯德哥爾摩積極發展永續社區，而位於湖濱的舊工業區漢莫比(Hammarby Sjöstad)正是改造重點之一。根據規劃，漢莫比的新建築將廣設太陽能，同時運用可燃廢棄物提供電力與暖氣，並循環利用廢水；在交通運輸方面則推廣輕軌電車及汽車共乘制度，以削減碳排放。此外，當地還設置大量綠地、公園，並舉辦眾多運動、文化活動，以兼顧居民的身心健康。

(38) 請問斯德哥爾摩市發展永續社區可能產生什麼影響？ (A)瑞典的國家競爭力降低，但綠色國民所得增加 (B)帶動綠能技術的研發，有利於長期的經濟成長 (C)以可燃廢棄物供應電力可解決資源有限的問題 (D)輕軌電車及汽車共乘較為不便，有損經濟成長

(39) 從GDP的角度來看漢莫比社區的發展計畫，則下列何者正確？ (A)循環利用廢水會減少自然資本消耗，使投資增加，GDP提高 (B)市政府聘請專家規劃永續社區，使政府消費增加，GDP提高 (C)民眾從免費的文化活動獲得滿足，使民間消費增加，GDP提高 (D)瑞典不產石油，廣泛採用太陽能會減少石油進口，使GDP降低

(40) 汽車共乘制度是由車主提供空位給順路的人，乘客則按照搭車距離分擔汽油、耗損等成本，近年愈來愈多廠商設立共乘配對的網路平臺。請問下列何者正確？ (A)汽車共乘在臺灣不普遍乃因缺乏人造資本 (B)汽車共乘會增加燃料消耗，有損自然資本 (C)社會資本愈豐富，愈容易推廣汽車共乘 (D)開發共乘配對網路平臺是人造資本的展現

★歐盟成立後，大幅消除各成員之間的經貿限制，促進了歐洲各國的經貿往來。2015年夏天，憤怒的法國農民在全國各地封路示威，並用農業機具封鎖通往西班牙與德國的道路，阻止外國廉價農產品進口。這些農民指責大型超市及經銷商不斷壓低農產品價格，使他們瀕臨破產；但有人則認為，經濟全球化潮流下各國經濟日趨整合，才是農產品價格走低的根源。

(41) 歐盟建立了單一市場(single market)，各成員大幅撤除對彼此的貿易障礙，讓大多數產品能自由流通。請問若不考慮其他因素，則單一市場可能對歐盟造成何種影響？ (A)成員整體的生產力提高 (B)境內民眾的貧富差距縮小 (C)各廠商的銷量增加、獲利提高 (D)境內廠商相互競爭的程度降低

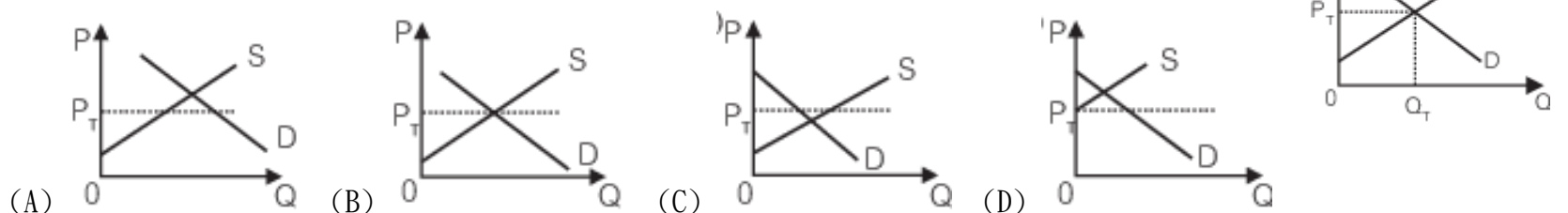
(42) 請問法國農民示威抗議的事件，顯示了經濟全球化的何種問題？ (A)環境破壞規模擴大 (B)廠商外移惡化失業 (C)分工利益分配不均 (D)污染無國界

★鹿茸是指雄鹿剛剛長出的嫩角，可做為中藥材。臺灣加入WTO後，紐西蘭鹿茸進入我國市場，導致國內鹿茸價格面臨下跌壓力。由於臺灣養鹿的工資、飼料都比較貴，加上紐西蘭採大規模養殖，因此價格相對低廉。2013年我國與紐西蘭簽訂經貿協定後，鹿茸的關稅將逐年降至全面零關稅，對此許多本土業者深感憂心。

(43) 根據上述，下列何者正確？ (A)開放紐西蘭鹿茸進口將衝擊我國養鹿業者，必使我國經濟福祉減少 (B)只要紐西蘭業者生產鹿茸的生產力較高，就會具有鹿茸的比較利益 (C)若進口鹿茸用於加工出口，則屬中間產品，計算我國GDP時不用扣除 (D)WTO裡的其他鹿茸出口國可能根據最惠國待遇要求我國降低鹿茸

關稅

(44) 假若臺灣的鹿茸市場如右圖，其中P是價格、Q是數量，而D代表需求，S則代表供給。請問下列何者最可能是紐西蘭的鹿茸市場？



(45) 當其他條件不變時，若臺灣進口鹿茸免關稅，使我國消費者減少購買國產鹿茸、增加購買進口鹿茸，則最可能造成何種影響？ (A) 紐西蘭廠商難發揮比較利益，國家競爭力因而下滑 (B) 臺灣耗用較少自然資源，導致臺灣的綠色 GDP 減少 (C) 紐西蘭境內廠商的總產出將增加，使該國 GDP 提高 (D) 臺灣常住居民的境外所得增加，使臺灣的 GNI 提高

★2018 年年初，美國總統川普簽署公告，宣布為了國家安全，將對進口鋼鐵製品徵收 25% 的關稅，對進口鋁製品徵收 10% 的關稅。接下來幾個月內，中國、加拿大、墨西哥及歐盟等，陸續宣布對美國的部分商品加徵關稅，作為反制；此外，中國、歐盟也向 WTO 投訴美國的鋼鋁關稅。

(46) 若美國的關稅使進口鋁製品漲價，對美國的鋁製品市場有何影響？ (A) 生產者剩餘增加，消費者剩餘減少，經濟福祉減少 (B) 生產者剩餘減少，消費者剩餘增加，經濟福祉減少 (C) 生產者剩餘增加，消費者剩餘減少，經濟福祉增加 (D) 生產者剩餘減少，消費者剩餘增加，經濟福祉增加

(47) 美國對進口鋼鋁製品開徵新關稅後，可能對美國以鋼鋁為原材料的產品市場有何影響？ (A) 建材市場的供給增加 (B) 國產汽車的價格降低 (C) 造船市場的需求增加 (D) 客機市場的出口減少

★乙國沒有開放香蕉的國際貿易，且農民種香蕉幾乎都用於販售，不會自己食用。近年由於種植面積擴大，加上氣候適宜，導致香蕉「價崩」，每公斤的產地收購價格跌到個位數。為了「拯救」蕉農，政府官員一面在公開場合吃香蕉，呼籲民眾挺蕉農；一面也考慮用價格下限或由政府收購香蕉等措施來穩定香蕉價格。

(48) 假定香蕉在乙國都屬於最終產品，請問相較於沒有價格下限的情況，如果政府規定香蕉價格每公斤不得低於 10 元，對乙國 GDP 的直接影響，下列何種說法最為正確？ (A) GDP 會提高，因為香蕉的價格提高了 (B) GDP 會降低，因為香蕉的銷量減少了 (C) GDP 會減少，因為價格下限會造成無謂損失 (D) GDP 的增減取決於價量變動對銷售額的影響

(49) 若乙國政府不管制香蕉價格，而是花錢購買過剩的香蕉，再免費供應給弱勢族群食用，請問對乙國的 GDP 有何影響？ (A) GDP 不會變化，因為香蕉是免費給弱勢族群食用 (B) 政府購買香蕉作最終使用，故政府消費支出增加 (C) 這筆支出屬於政府移轉支出，因此 GDP 不會變動 (D) 由民間的弱勢族群食用，因此民間消費支出增加

(50) 丙國也生產香蕉，且沒有開放進出口，其香蕉國內市場均衡價格高於乙國的香蕉國內市場均衡價格。若兩國簽訂自由貿易協定，對彼此開放香蕉進出口，則對兩國的香蕉國內市場有何影響？ (A) 丙國的經濟福祉降低，但乙國的經濟福祉增加 (B) 乙國的經濟福祉降低，但丙國的經濟福祉增加 (C) 乙國的消費者剩餘及丙國的生產者剩餘都增加 (D) 乙國的生產者剩餘及丙國的消費者剩餘都增加

★稀土是智慧型手機、平面電視、油電混合車等許多科技產品的必要原料，而中國大陸則供應了全球 90% 以上的稀土。近年中國大陸以保護環境、減少汙染為由，限制稀土出口數量並課徵出口關稅，導致稀土的國際價格大漲，美國、歐盟和日本隨即向 WTO 控訴中國大陸此舉為「不公平的貿易措施」。2014 年 3 月底，WTO 裁定中國大陸的稀土出口管制違反規定。

(51) 請問中國大陸限制稀土出口的理由，可能是以下列何種說法為基礎？ (A) 政府鼓勵進口、限制出口，才能維護環境，達成永續發展 (B) 出口稀土將傷害歐美日產業健全發展，因此必須加以限制 (C) 歐美日生產較有效率，由它們製造科技產品對環境傷害更大 (D) 貿易更自由會提高生產與消費，使資源消耗與環境破壞增加

(52) 請問歐美日認為中國大陸限制稀土出口是「不公平的貿易措施」的理由可能為何？ (A) 中國大陸是稀土的主要供應者，能影響其國際價格 (B) 中國大陸科技業者將因此享有購買稀土的成本優勢 (C) 中國大陸限制稀土出口，卻沒有限制其他產品出口 (D) 中國大陸限制稀土出口，但歐美日未對稀土出口設限

(53) 若中國大陸歡迎外資前來設廠生產，且未限制國內生產的科技產品出口。請問當中國大陸限制稀土出口時，最可能產生什麼影響？ (A) 中國大陸出口減少，GDP 下滑 (B) 中國大陸從國外進口更多科技產品 (C) 中國大陸境內的人造資本變得更多 (D) 歐美日的進口減少導致淨出口增加